

**Всероссийская олимпиада школьников по географии
Региональный этап
2025/2026 учебного года**

**ВОПРОСЫ
ТРЕТЬЕГО (тестового) тура
для 9, 10, 11 классов**


**ПЕРЕД ВЫПОЛНЕНИЕМ ЗАДАНИЯ
ВНИМАТЕЛЬНО ПРОЧТИТЕ ИНСТРУКЦИЮ**

- На выполнение тестового тура отводится 30 минут.
- Тестовый тур состоит из 20 тестовых вопросов.
- Правильный ответ на каждый вопрос оценивается в 1 балл.
- Максимальная оценка составляет 20 баллов.
- Для ответов используйте полученный вами лист ответов.
- Ответы вписывайте в соответствующие поля ручкой (использование карандаша не допускается).
- В лист ответов необходимо указать только букву (А, Б, В или Г), соответствующую выбранному вами варианту.
- Персональные данные укажите только на титульной странице, сам лист ответов не подписывайте.

Исправления в листе ответов не допускаются!

Задания третьего (тестового) тура

1. Через какой из перечисленных водных объектов пролегает самый быстрый морской маршрут из Дублина в Ванкувер?
А. Панамский канал
Б. Девисов пролив
В. Пролив Дрейка
Г. Суэцкий канал
2. Где распространены картвельские языки?
А. Драконовы горы
Б. Огненная Земля
В. Кавказские горы
Г. Тянь-Шань
3. В каком регионе России сосредоточено около 10% от разведанных мировых запасов сырья для получения титана?
А. Омская область
Б. Республика Башкортостан
В. Тульская область
Г. Республика Коми
4. Какая область существовала в как единица административно-территориального деления России (РСФСР)?
А. Бийская область
Б. Череповецкая область
В. Орская область
Г. Великолукская область
5. Какой процесс обозначен на схеме цифрой 5?



- А. Транспирация
Б. Поверхностный сток
В. Десукция
Г. Внутрипочвенный сток
6. Для какого урбанизационного процесса в России выражено проявление сезонности?
А. Субурбанизация
Б. Джентрификация
В. Сателлитизация
Г. Урбанизация
7. Исток какой из перечисленных рек находится в Васюганских болотах?
А. Амгунь
Б. Малая Хета
В. Омь
Г. Омогон
8. Какое современное название носит географический объект, упомянутый в «Повести временных лет» как *Понт море*?
А. Адриатическое море
Б. Ладожское озеро
В. Черное море
Г. Эгейское море
9. Какая из характеристик воздуха быстрее всех убывает с увеличением высоты в тропосфере?
А. Давление
Б. Температура
В. Плотность
Г. Влажность

10. Какая из перечисленных пустынь расположена на Иранском нагорье?

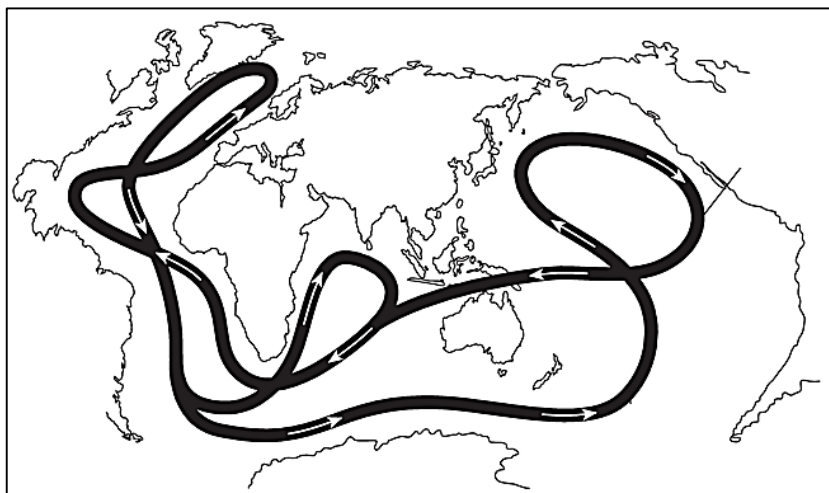
А. Деште-Лут

В. Сечура

Б. Пят

Г. Тхал

11. Что показано на схеме?



А. Глобальная циркуляция вод

Б. Глобальная циркуляция воздушных масс

В. Конвективные потоки мантийного вещества

Г. Система холодных течений

12. В каком из этих штатов США доля распаханных земель в общей площади максимальна?

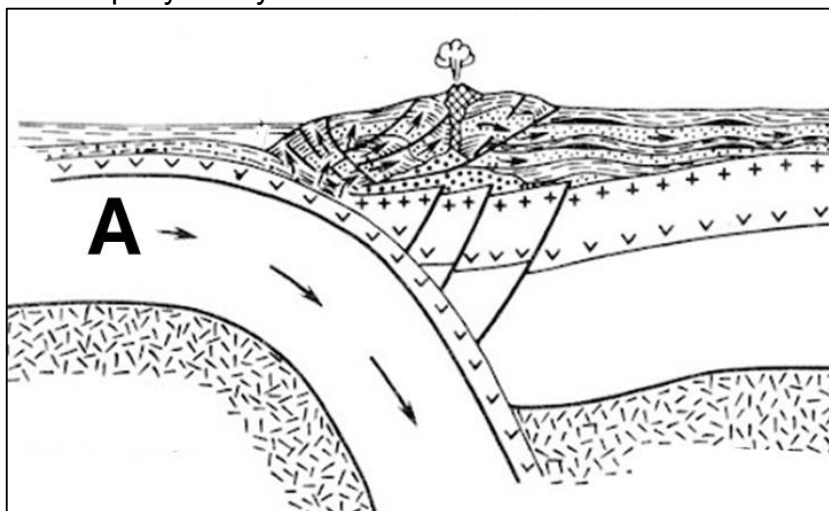
А. Мэн

В. Айова

Б. Вашингтон

Г. Нью-Мексико

13. Что отмечено на рисунке буквой А?



А. Зона спрединга

В. Трансформный разлом

Б. Континентальная литосферная плита

Г. Океаническая литосферная плита

14. В пределах какой единицы административно-территориального деления Австралии плотность населения наименьшая?

А. Штат Западная Австралия

В. Штат Тасмания

Б. Штат Квинсленд

Г. Северная территория

15. Как сейчас называется остров, открытый Христофором Колумбом в 1492 г. и названный Эспаньола?

- А. Гаити
- Б. Куба

- В. Пуэрто-Рико
- Г. Тринидад

16. Территорию какой из перечисленных стран пересекает нулевой меридиан?

- А. Мали
- Б. Демократическая Республика Конго

- В. Марокко
- Г. Португалия

17. Как называется прибор, изображенный на рисунке?



- А. Пантограф
- Б. Актинометр
- В. Гелиограф
- Г. Экспонометр

18. В пределах какого географического объекта распространены *регуры* – черные тропические почвы на базальтовых покровах?

- А. Бразильское плоскогорье
- Б. Впадина Конго

- В. Плоскогорье Декан
- Г. Юньнаньское нагорье

19. На границе России с какой страной, из перечисленных, находится точка с наибольшей абсолютной высотой?

- А. С Азербайджаном
- Б. С Монголией

- В. С Казахстаном
- Г. С Норвегией

20. Какое из перечисленных озер имеет рифтовое происхождение?

- А. Балхаш
- Б. Иссык-Куль

- В. Мертвое море
- Г. Севан